
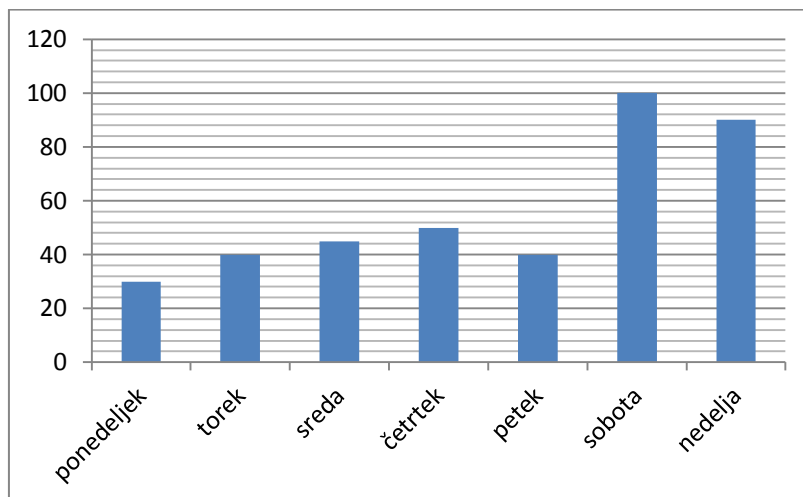


Pozorno preberi besedilne naloge, jih reši in odgovori na vprašanja.

1. Stolpčni diagram kaže število obiskovalcev kopališča prejšnji teden.



- Kateri dan je bilo na kopališču najmanj obiskovalcev?
- Kateri dan je bilo na kopališču največ obiskovalcev?
- Koliko obiskovalcev je bilo na kopališču v četrtek?
- Koliko obiskovalcev je bilo na kopališču prejšnji teden?

2. Štiričlanska družina Hočevar, ki ima dva otroka, stara 9 in 3 leta, se odpravlja iz Ljubljane na obisk k babici v Brežice. Tik pred odhodom se jim je pokvaril avto in zato so se odločili, da gredo na 109 km dolgo pot kar z avtobusom. Potrudili so se in vso prtljago spravili v dve potovalni torbi.

Iz cenika avtobusnih potniških prevozov preberi ustrezne podatke in odgovori na vprašanja.


- Koliko bodo plačali za enosmerno karto za starejšega otroka?
- Izračunaj ceno poti iz Ljubljane v Brežice za celotno družino.
- Koliko bodo plačali za prtljago?



3. Na šoli traja šolska ura 45 minut. Med urami so 5-minutni odmori. Po 2. šolski uri je glavni odmor, začne se ob 9.45 in traja 20 minut. Po peti šolski uri je odmor za kosilo, ki traja 20 minut.

Sestavi časovni potek ur od prve do sedme šolske ure in odgovori na vprašanja.

- a) Ob kateri uri se na tej šoli začne 1. ura pouka?
 b) Ob kateri uri se na tej šoli konča 5. šolska ura?
 c) Ob kateri uri se začne 6. šolska ura?



4. V 7. b razredu je 24 učencev. V ponedeljek so pri matematiki pisali preverjanje znanja, ki je bilo sestavljeno iz štirih matematičnih nalog. Vsaka naloga je bila sestavljena iz dveh delov (a in b), pri vsakem izmed teh delov pa je bilo treba zapisati in izračunati tri račune.

- a) Koliko računov je izračunal Lovro, če je rešil preverjanje v celoti?
 b) Koliko računov je izračunal Marko, če ni rešil 3. naloge?
 c) Koliko računov je izračunala Monika, če je rešila samo prvi dve nalogi?



5. DODATNA NALOGA:

Mama je spekla piškote in jih dala otrokom. Otroci so prvi dan pojedli četrtno, drugi dan pa tretjino vseh piškotov. Ostalo je še 15 piškotov. Koliko piškotov je mama dala otrokom?



Namig: Pomagaj si z barvanjem.